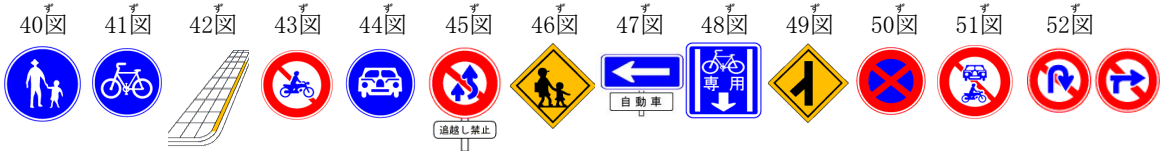
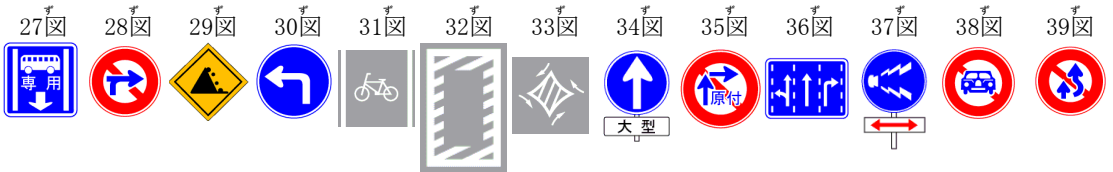
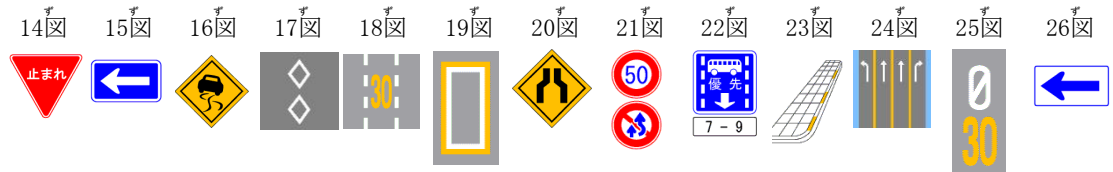



履修番号3

- 問題 1 本標識は、規制標識、指示標識、警戒標識及び案内標識の4種類に分けられる。
- 問題 2 後方から緊急自動車が近づいてきたときは、黄色の線の車両通行帯をこえて通行することができる。
- 問題 3 1図の標識のあるところでは、一時停止しなければならない。
- 問題 4 2図の標識は、安全地帯があることを表している。
- 問題 5 3図の標識は、前方の交差道路に対して優先道路であることを表している。
- 問題 6 4図の標識は、この先に学校、幼稚園、保育所などがあることを表している。
- 問題 7 5図の標識のある道路では、原動機付自転車は進入できる。
- 問題 8 6図の標識は、前方に横断歩道があることを表している。
- 問題 9 7図の警戒標識は、この先路面電車の停留所があることを表している。
- 問題 10 8図の標識のあるところでは、歩行者の通行の為、車両は通行止めであることを表している。
- 問題 11 9図の標識は「指定方向外進行禁止」を表している。
- 問題 12 10図の標識は原動機付自転車や自転車の通行は禁止していない。
- 問題 13 11図の標識は、センターラインのないところの道路の中心ではなく中央であることを表している。
- 問題 14 12図と13図の二つの補助標識は、それぞれ同じ意味である。
- 問題 15 14図の標識のある場所で停止線がないところでは、標識の直前で停止しなければならない。
- 問題 16 道路の左端や信号機に、15図の標識がある場合は、前方の信号が赤色や黄色であっても、自動車や原動機付自転車は、歩行者など周りの交通に注意しながら左折してもよい。
- 問題 17 16図の警戒標識のある道路では、ハンドルが取られやすいので注意して走行する必要がある。
- 問題 18 17図の道路標識は、この先に横断歩道や自転車横断帯があることを示している。
- 問題 19 18図の標識がある道路では、原動機付自転車は時速30キロメートル以下で走行してはならない。
- 問題 20 歩行者がいなくて車はこの19図の標識の中に入ってもよい。
- 問題 21 20図の標識がある道路では、この先で道路工事をしている為道幅が狭くなっているので、注意して走行する。
- 問題 22 21図の二つの標識の組み合わせは、時速50キロメートルの速度をこえて追い越す時に、多少のはみ出しはよいことを表している。
- 問題 23 22図の標識のある優先通行帯では、その指定された時間外でも、路線バスが接近してきた時は、その通行帯から出なければならない。
- 問題 24 23図の標識のあるところでは、駐車も停車もしてはならない。
- 問題 25 24図の標識のあるところでは、右左折のためであれば黄色の線をこえて進路を変えることができる。
- 問題 26 25図の標識は、最高速度が時速30キロメートル区間の始まりを表している。
- 問題 27 15図は、左折可の標識板である。
- 問題 28 27図の標識がある車両通行帯は、路線バスはもちろん原動機付自転車と小型特殊自動車及び軽車両は通行することができるが、一般車は、道路工事などやむを得ない場合や右左折するときのほかは通行してはならない。
- 問題 29 28図の標識は、直進や左折をしてはならないことを表している。
- 問題 30 29図の標識は、この先の道路の路肩が崩れやすくなっているので注意の必要があることを表している。
- 問題 31 30図の標識は、この先に「左カーブ」があることを表している。
- 問題 32 31図の道路標識は自転車専用通行帯を表している。
- 問題 33 32図の標識は、「立ち入り禁止」を表している。
- 問題 34 33図の標識のある交差点では、この標識の指定に従って右折しなければならない。
- 問題 35 34図の標識のある交差点は、大型自動車以外の車は直進できない。
- 問題 36 35図の標識は、原動機付自転車が右折する時、あらかじめ道路の中央(一方通行は右端)に寄り、右折しなければならぬことを表している。
- 問題 37 36図の標識により進行方向が指定されている時は、やむを得ない場合の他指定された方向以外に進行してはならない。
- 問題 38 37図の標識のある場所を通行するときは、危険がない場合であっても、必ず警告音を鳴らさなければならない。
- 問題 39 38図の標識は、普通自動車の通行止めを表している。
- 問題 40 19図の標識は、「立ち入り禁止部分」を表している。
- 問題 41 28図の標識は、左側の施設への出入りは禁止していない。
- 問題 42 26図の標識のある交差点では、周囲の交通に優先して左折することができる。
- 問題 43 33図の標識のある交差点では、矢印に従って走行すれば対面する車にかまわず右折できる。
- 問題 44 39図の標識がある道路では、道路の中央から右側にはみ出さなければ前の車を追い越すことができる。

- 問題 45 40図の標識のある道路は、沿道に車庫を持つ車などで特に許可を受けた車が通行することができるが、その場合は歩行者に注意して減速して通行しなければならない。
- 問題 46 41図の標識は、「自転車横断帯」を表している。
- 問題 47 42図の標識のある場所では、駐車も停車もすることができる。
- 問題 48 43図の標識は、二輪の自動車は通行できないが原動機付自転車は通行できる。
- 問題 49 44図の標識のある道路は、普通自動車以外の自動車は通行できないことを表している。
- 問題 50 45図の標識のある場所では、道路の中央から右側にはみ出さなければ前の車を追い越すことができる。
- 問題 51 46図の標識のあるところでは、沿道に車庫を持つなどで特に通行を認められた車しか通行することができない。
- 問題 52 47図の標識がある道路では、原動機付自転車は矢印の方向にしか進行できない。
- 問題 53 48図の標識のある通行帯は、原動機付自転車や小型特殊自動車も通行することができる。
- 問題 54 49図の標識は、この先に合流交通の交差点があることを表している。
- 問題 55 50図の標識と42図の標識は同じ意味を表している。
- 問題 56 40図の標識は、「横断歩道」を表している。
- 問題 57 51図の標識は、自動車と原動機付自転車が通行できないことを表している。
- 問題 58 52図のような標識がある場所では、車は、転回や横断、後退を行ってはならない。



履修番号3 解答

もんだい 問題 1	○		もんだい 問題 30	×	
もんだい 問題 2	○		もんだい 問題 31	×	
もんだい 問題 3	×		もんだい 問題 32	×	
もんだい 問題 4	○		もんだい 問題 33	×	
もんだい 問題 5	○		もんだい 問題 34	○	
もんだい 問題 6	×		もんだい 問題 35	×	
もんだい 問題 7	○		もんだい 問題 36	○	
もんだい 問題 8	×		もんだい 問題 37	○	
もんだい 問題 9	×		もんだい 問題 38	×	
もんだい 問題 10	×		もんだい 問題 39	×	
もんだい 問題 11	×		もんだい 問題 40	×	
もんだい 問題 12	×		もんだい 問題 41	○	
もんだい 問題 13	×		もんだい 問題 42	×	
もんだい 問題 14	×		もんだい 問題 43	×	
もんだい 問題 15	×		もんだい 問題 44	○	
もんだい 問題 16	×		もんだい 問題 45	×	
もんだい 問題 17	×		もんだい 問題 46	×	
もんだい 問題 18	○		もんだい 問題 47	×	
もんだい 問題 19	×		もんだい 問題 48	×	
もんだい 問題 20	×		もんだい 問題 49	×	
もんだい 問題 21	×		もんだい 問題 50	×	
もんだい 問題 22	×		もんだい 問題 51	×	
もんだい 問題 23	×		もんだい 問題 52	×	
もんだい 問題 24	×		もんだい 問題 53	×	
もんだい 問題 25	×		もんだい 問題 54	○	
もんだい 問題 26	×		もんだい 問題 55	○	
もんだい 問題 27	×		もんだい 問題 56	×	
もんだい 問題 28	○		もんだい 問題 57	○	
もんだい 問題 29	×		もんだい 問題 58	×	